

الاسم :

رقم الجلوس :

مدة الاختبار: ساعتان

اختبار مادة العلوم للصف السادس - الفصل الدراسي الثاني 1443 هـ

الدور الأول

| المجموع | الدرجة كتابية | الدرجة رقما | السؤال    |
|---------|---------------|-------------|-----------|
|         |               |             | الأول     |
|         |               |             | الثاني    |
|         |               |             | الثالث    |
|         | المدققة:      | المراجعة:   | المصححة : |

السؤال الأول : أ/ ضعى كلمة ( صح ) عند الإجابة الصحيحة وكلمة ( خطأ ) عند الإجابة الخاطئة :

10

- 1- كوكب نبتون هو أقرب كوكب للشمس ( )
- 2- النجم كرة ملتهبة من الغازات تشع ضوءا وحرارة ( )
- 3- تحدث الفصول الأربعة بسبب دورة الأرض اليومية حول محورها ( )
- 4- الكواكب الداخلية مثل المريخ والأرض لها حلقات ( )
- 5- الطاقة الشمسية من المصادر البديلة للطاقة والمتجددة ( )
- 6- المنظار الفلكي الكاسر هو منظار تستعمل فيه العدسات لتجميع الضوء ( )

ب/ صلي العبارة من العمود (أ) بما يناسبه من العمود (ب) :

| ب               | أ  |
|-----------------|--|
| الصحراء         | 1- تداخل السلاسل الغذائية                    |
| الشبكة الغذائية | 2- أحد أنواع الوقود الأحفوري                 |
| هو خط الطول 180 | 3- من الأنظمة البيئية ذات المياه العذبة      |
| النفط           | 4- من معالم سطح القمر                        |
| الفوهات         | 5- منطقة حيوية مناخها جاف                    |
| التلوث          | 6- خط التاريخ الدولي                         |
| الأنهار         | 7- إضافة مواد ضارة إلى التربة والهواء والماء |

السؤال الثاني : أ/ اختاري الإجابة الصحيحة بوضع دائرة حولها فيما يلي :

|  |   |
|--|---|
| 1- أكبر كواكب المجموعة الشمسية :                             | 2- من الحيوانات التي تعيش في الغابات الاستوائية المطيرة : |
| - الأرض  | - الدب القطبي   |
| - عطارد  | - القردة  |
| - المشتري  | - الجمل   |
| 3- النجوم ذات اللون الأحمر:                                  | 4- الديدان والفطريات تعتبر من                             |
| - أقل حرارة  | - المنتجات  |
| - متوسطة الحرارة   | - المستهلكات  |
| - أكثر حرارة   | - المحلات   |
| 5- : طور القمر الذي يكون فيه القمر معتما ومظلما بالكامل      | 6- من مصادر الطاقة غير المتجددة :                         |
| - المحاق   | - الرياح  |
| - البدر  | - الوقود الأحفوري   |
| - التربيع الأول  | - المياه  |
| 7- المخلوقات التي تحصل على غذائها عن طريق قتل مخلوقات أخرى : | 8- ما أقصى عمق للمحيط تصل إليه أشعة الشمس :               |
| - آكلات أعشاب  | - 100 متر   |
| - الكانسة  | - 200 متر   |
| - المفترسات  | - 500 متر   |
| 9- شكل مجرة درب التبانة:                                     | 10- انخفاض الماء وارتفاعه على امتداد الشاطئ :             |
| - غير منتظمة   | - خسوف القمر  |
| - لولبية   | - المد والجزر   |
| - إهليلجية   | - كسوف الشمس  |

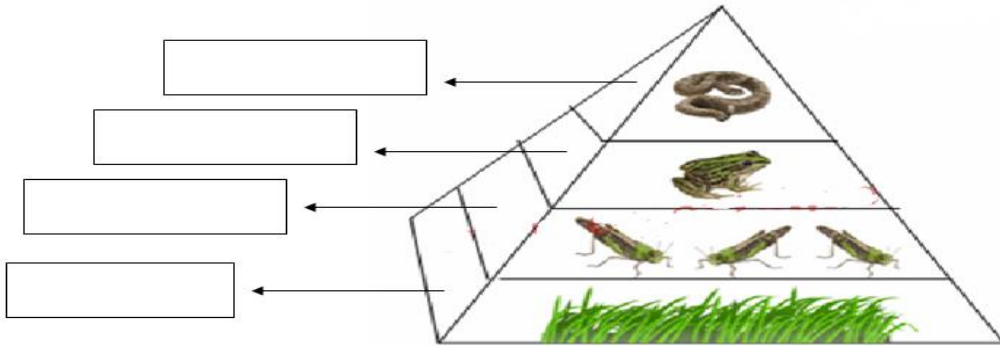
ب- املئي الفراغات بالكلمة المناسبة مما يلي : ( المنتجات – خسوف القمر – التايجا علم الفلك – التدوير )

- 1- عندما يقع ظل الأرض على القمر يحدث : .....
- 2- هي غابات باردة ذات أشجار مخروطية دائمة الخضرة: .....
- 3- المخلوقات الحية التي تصنع غذائها بنفسها هي : .....
- 4- من القواعد المهمة للحفاظ على موارد البيئة : .....
- 5- هو علم يختص بدراسة الكون: .....

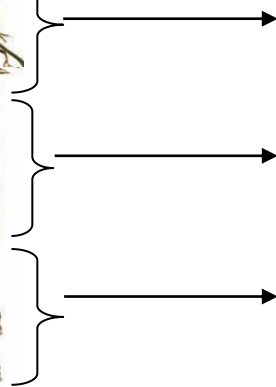
السؤال الثالث : أ / صنفى كواكب المجموعة الشمسية إلى كواكب داخلية وخارجية :

| الكواكب الخارجية | الكواكب الداخلية |
|------------------|------------------|
|                  |                  |
|                  |                  |
|                  |                  |
|                  |                  |

ب- أمامك رسم والمطلوب تحديد اسم الشكل مع تحديد المنتج والمستهلك الأول والمستهلك الثاني والمستهلك الثالث على الرسم :



ج- اكتبى اسم كل نطاق من نطاقات التربة :-



د- عددي 3 طرق من طرق المحافظة على التربة ؟

1-.....2-.....3-.....

انتهت الأسئلة – دعائي لكن بالتوفيق والنجاح

الاسم :

رقم الجلوس :

مدة الاختبار: ساعتان

اختبار مادة العلوم للصف السادس - الفصل الدراسي الثاني 1443 هـ

الدور الأول

| السؤال    | الدرجة رقما | الدرجة كتابة | المجموع |
|-----------|-------------|--------------|---------|
| الأول     |             |              |         |
| الثاني    |             |              |         |
| الثالث    |             |              |         |
| المصححة : | المراجعة:   | المدققة:     |         |

السؤال الأول : أ/ ضع كلمة ( صح ) عند الإجابة الصحيحة وكلمة ( خطأ ) عند الإجابة الخاطئة :

10

- 1- كوكب نبتون هو أقرب كوكب للشمس ( X )
- 2- النجم كرة ملتهبة من الغازات تشع ضوءا وحرارة ( ✓ )
- 3- تحدث الفصول الأربعة بسبب دورة الأرض اليومية حول محورها ( X )
- 4- الكواكب الداخلية مثل المريخ والأرض لها حلقات ( X )
- 5- الطاقة الشمسية من المصادر البديلة للطاقة والمتجددة ( ✓ )
- 6- المنظار الفلكي الكاسر هو منظار تستعمل فيه العدسات لتجميع الضوء ( ✓ )

ب/ صلي العبارة من العمود (أ) بما يناسبه من العمود (ب) :

| أ  |   | ب               |
|--|---|-----------------|
| 1- تداخل السلاسل الغذائية                    | 0 | الصحراء         |
| 2- أحد أنواع الوقود الأحفوري                 | 1 | الشبكة الغذائية |
| 3- من الأنظمة البيئية ذات المياه العذبة      | 6 | هو خط الطول 180 |
| 4- من معالم سطح القمر                        | 2 | النفط           |
| 5- منطقة حيوية مناخها جاف                    | 4 | الفوهات         |
| 6- خط التاريخ الدولي                         | 7 | التلوث          |
| 7- إضافة مواد ضارة إلى التربة والهواء والماء | 3 | الأنهار         |

أقلبي الصفحة

السؤال الثاني : أ/ اختاري الإجابة الصحيحة بوضع دائرة حولها فيما يلي :

|  |   |
|--|---|
| 1- أكبر كواكب المجموعة الشمسية :                             | 2- من الحيوانات التي تعيش في الغابات الاستوائية المطيرة : |
| - الأرض  | - الدب القطبي   |
| - عطارد  | - القردة  |
| - المشتري  | - الجمل   |
| 3- النجوم ذات اللون الأحمر:                                  | 4- الديدان والفطريات تعتبر من                             |
| - أقل حرارة  | - المنتجات  |
| - متوسطة الحرارة   | - المستهلكات  |
| - أكثر حرارة   | - المحلات   |
| 5- : طور القمر الذي يكون فيه القمر معتما ومظلما بالكامل      | 6- من مصادر الطاقة غير المتجددة :                         |
| - المحاق   | - الرياح  |
| - البدر  | - الوقود الأحفوري   |
| - التربيع الأول  | - المياه  |
| 7- المخلوقات التي تحصل على غذائها عن طريق قتل مخلوقات أخرى : | 8- ما أقصى عمق للمحيط تصل إليه أشعة الشمس :               |
| - آكلات أعشاب  | - 100 متر   |
| - الكانسة  | - 200 متر   |
| - المفترسات  | - 500 متر   |
| 9- شكل مجرة درب التبانة:                                     | 10- انخفاض الماء وارتفاعه على امتداد الشاطئ :             |
| - غير منتظمة   | - خسوف القمر  |
| - لولبية   | - المد والجزر   |
| - إهليلجية   | - كسوف الشمس  |

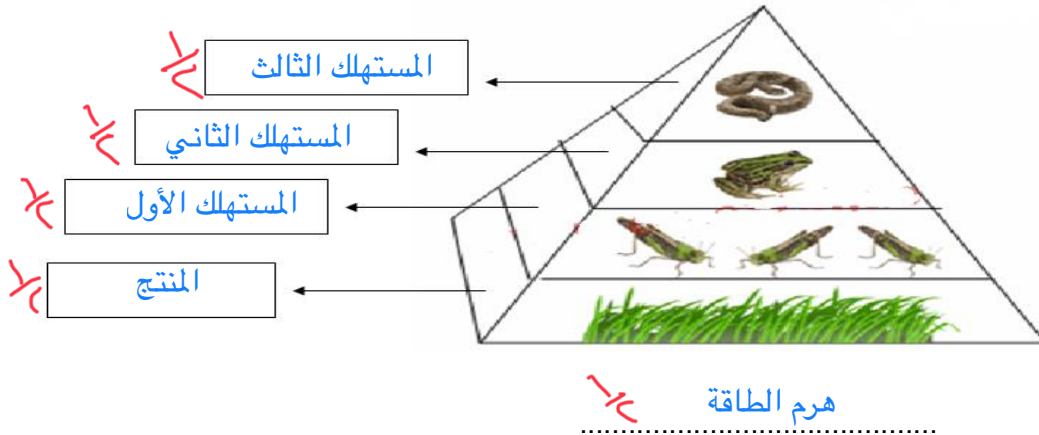
ب- املئي الفراغات بالكلمة المناسبة مما يلي : ( المنتجات – خسوف القمر – التايجا – علم الفلك – التدوير )

- 1- عندما يقع ظل الأرض على القمر يحدث : خسوف القمر
- 2- هي غابات باردة ذات أشجار مخروطية دائمة الخضرة: التايجا
- 3- المخلوقات الحية التي تصنع غذائها بنفسها هي : المنتجات
- 4- من القواعد المهمة للحفاظ على موارد البيئة : التدوير
- 5- هو علم يختص بدراسة الكون: علم الفلك


السؤال الثالث : أ / صنفى كواكب المجموعة الشمسية إلى كواكب داخلية وخارجية :

| الكواكب الخارجية | الكواكب الداخلية |
|------------------|------------------|
| المشتري ١        | عطارد ١          |
| زحل ١            | الزهرة ١         |
| أورانوس ١        | الأرض ١          |
| نبتون ١          | المريخ ١         |

ب- أمامك رسم والمطلوب تحديد اسم الشكل مع تحديد المنتج والمستهلك الأول والمستهلك الثاني والمستهلك الثالث على الرسم :



ج- اكتبى اسم كل نطاق من نطاقات التربة :-



طبقة التربة السطحية

طبقة التربة تحت السطحية

الطبقة الصخرية

د- عددى 3 طرق من طرق المحافظة على التربة ؟

- 1- التسميد
- 2- الأشترطة المتبادلة
- 3- مصدات الرياح

المصاطب/المدرجات - الجهود الفردية- التعليم - القوانين -  
الحراثة الكنتورية - الدورة الزراعية

انتهت الأسئلة - دعائي لكن بالتوفيق والنجاح



**نموذج إجابة أسئلة الاختبار التشخيصي الصف السادس للعام الدراسي ١٤٤٣ هـ**

| اختار/ ي الإجابة الصحيحة لكل مما يلي: كل فقرة بدرجة                        |                                  |   |
|--|----------------------------------|---|
| معظم المعلومات الوراثية للخلية الحيوانية موجودة في ...                     |                                  |   |
| أ  | الميتوكوندريا                    | ب |
| ب  | السيتوبلازم                      | ج |
| ج  | الفجوة                           | د |
| د  | النواة                           |   |
| العملية التي تقوم بها الخلية النباتية لتخزين الطاقة في صورة جلوكوز هي .... |                                  |   |
| أ  | التنفس الخلوي                    | ب |
| ب  | البناء الضوئي                    | ج |
| ج  | النقل السلبي                     | د |
| د  | النقل النشط                      |   |
| يحتوي على المعلومات الكيميائية للصفة الموروثة ويعرف بـ                     |                                  |   |
| أ  | الوراثة                          | ب |
| ب  | الجين                            | ج |
| ج  | الغريزة                          | د |
| د  | حامل الصفة                       |   |
| في دورة حياة النباتات البذرية يتم التكاثر بواسطة ....                      |                                  |   |
| أ  | تكاثر لا جنسي بواسطة البذور      | ب |
| ب  | تكاثر جنسي بواسطة انتشار الأبواغ | ج |
| ج  | تكاثر لا جنسي بواسطة التبرعم     | د |
| د  | تكاثر جنسي بواسطة البذور         |   |
| أي الأجهزة التالية مسؤول عن نقل الأكسجين والجلوكوز والفضلات في الجسم       |                                  |   |
| أ  | الجهاز الهضمي                    | ب |
| ب  | الجهاز التنفسي                   | ج |
| ج  | جهاز الدوران                     | د |
| د  | جهاز الإخراج                     |   |
| أي مما يأتي له هيكل خارجي دعامي....  |                                  |   |
| أ  | الأرنب                           | ب |
| ب  | الكلب                            | ج |
| ج  | الجندب                           | د |
| د  | السمكة                           |   |

| اختار/ ي الإجابة الصحيحة لكل مما يلي:  |                      |   |                     |
|--|----------------------|---|---------------------|
| أي المخلوقات الحية التالية يمثل المستهلكات الأولى                                  |                      |   |                     |
| أ  | الغزال               | ب | العشب               |
| ج  | الأسد                | د | النسر               |
| دورة الأرض اليومية تستغرق حوالي..  |                      |   |                     |
| أ  | ٣٠ ساعة              | ب | ٢٥ ساعة             |
| ج  | ٢٤ ساعة              | د | ١٢ ساعة             |
| أي الظواهر الأتية تحدث بسبب الدورة السنوية للأرض حول الشمس                         |                      |   |                     |
| أ  | أطوار القمر          | ب | تعاقب الليل والنهار |
| ج  | تعاقب الفصول الأربعة | د | خسوف القمر          |
| ضع /ي علامة (√) أمام العبارة الصحيحة وعلامة (X) أمام العبارة الخاطئة كل فقرة بدرجة |                      |   |                     |
| ١- الفجوات في الخلية الحيوانية أكبر منها في الخلية النباتية ( X )                  |                      |   |                     |
| ٢- بناء العنكبوت لشبكته سلوك غريزي موروث ( √ )                                     |                      |   |                     |
| ٣- يتكاثر الحزاز جنسيا بالبذور ( X )   |                      |   |                     |
| ٤- يشعر متسلقو الجبال العالية بالإرهاق والتعب بسبب نقص الأكسجين ( √ )              |                      |   |                     |
| ٥- هرم الطاقة نموذج يبين كيف تنتقل الطاقة خلال سلسلة غذائية ( √ )                  |                      |   |                     |
| ٦- تستغرق الأرض سنة كاملة في دورانها حول الشمس ( √ )                               |                      |   |                     |
| انتهت الإجابة  |                      |   |                     |